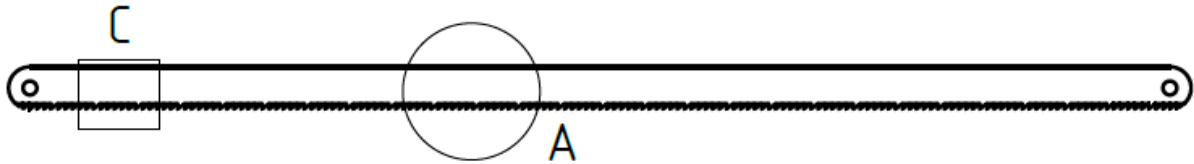
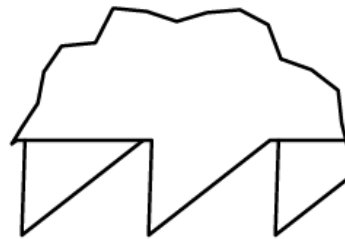
		Thema:		Datum:	18.09.2019
		Fach:		Blatt:	
Klasse:	BV	Name:			



Winkel und Zahngröße

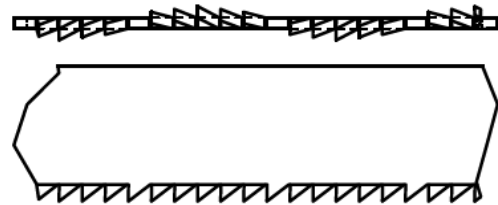
Bei der richtigen Auswahl der Säge gibt es einiges zu beachten:

Finde im Fachbuch die richtigen Winkel, zeichne diese ein und überlege, warum der Freiwinkel so groß ist. Überlege dir, warum die Zähne so klein sind:



Schrägung

Warum gibt es beim Sägeblatt eine Schrägung? Welche Schrägungen gibt es? Nenne Vor- und Nachteile der einzelnen Schrägungen!



Sägeeingriff

Beschrifte die Skizze:

